

제 4 교시

사회탐구 영역(정치와 법)


성명		수험번호				3				제 ( ) 선택
----	--	------	--	--	--	---	--	--	--	----------

1. 그림은 정치와 법 수업을 위한 교사들 간 대화이다. A, B에 대한 설명으로 옳은 것은?

법치주의의 유형 A, B에 대한 수업에서 강조해야 할 부분은 무엇이 있을까요?

‘합법적 독재의 가능성’으로 A와 B를 구분할 수 있다는 점을 언급하는 게 좋다고 생각합니다.

B에 대한 반성으로 A가 나타났다는 점을 강조하는 것도 중요한 것 같아요.



- ① A는 위헌 법률 심사제의 필요성을 강조한다.
- ② B는 국민의 기본권이 법률에 의해 제한될 수 없다고 본다.
- ③ A와 달리 B는 통치의 합법성을 중시한다.
- ④ B와 달리 A는 독재 정치를 정당화할 수 있다.
- ⑤ A, B 모두 법의 목적과 내용이 정의에 부합해야 한다는 점을 강조한다.

2. 다음 자료에 대한 설명으로 옳은 것은?

정치를 바라보는 관점 A는 정치권력의 획득·유지·행사와 관련한 국가 고유의 활동만을 정치로 보는 관점 B와 달리 국가를 포함한 모든 사회 집단에서 나타나는 이해관계의 조정 및 해결 과정을 정치로 본다. 따라서 A와 B는 모두 \_\_\_\_\_(가) \_\_\_\_\_을/를 정치로 본다.

- ① A는 국가의 정치 현상과 국가 외 사회 집단의 정치 현상은 본질적으로 다르다고 본다.
- ② B는 노사 간 협상과 대통령의 통치 행위를 모두 정치로 본다.
- ③ A와 달리 B는 복잡하고 다원화된 현대 사회의 정치 현상을 설명하기에 적합하다.
- ④ B와 달리 A는 국가 형성 이전의 정치 현상을 설명하기에 적합하다.
- ⑤ (가)에는 ‘사내 복지 제도 개선을 위한 회사 구성원 간 토론’이 들어갈 수 있다.

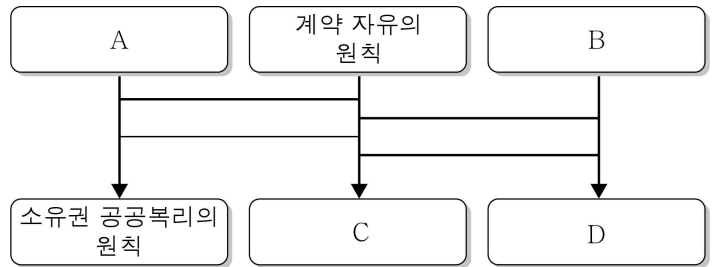
3. 표는 우리나라 헌법의 기본 원리 A, B를 나타낸 것이다. 이에 대한 설명으로 옳지 않은 것은?

기본 원리	주요 헌법 조항	실현 방안
A	국가는 사회 보장·사회 복지의 증진에 노력할 의무를 진다.	(가)
B	(나)	상호주의 원칙에 따른 외국인의 법적 지위 보장

- ① A는 실질적 평등의 실현을 추구한다.
- ② B에 따라 우리나라는 국제법을 존중하고 모든 전쟁을 부인한다.
- ③ A, B 모두 국가 정책 결정의 내용과 방향을 제시한다.
- ④ (가)에는 ‘최저 임금제 실시’가 들어갈 수 있다.
- ⑤ (나)에는 ‘대한민국의 주권은 국민에게 있고, 모든 권력은 국민으로부터 나온다.’가 들어갈 수 없다.

4. A~D에 대한 설명으로 옳은 것은?

그림은 사다리 게임 방식을 통해 근대 민법의 기본 원칙과 이것에 각각 대응하는 근대 민법의 수정·보완 원칙을 짚어 준 것이다. 단, A와 B는 근대 민법의 기본 원칙에 해당하고, C와 D는 근대 민법의 수정·보완 원칙에 해당한다.



\* 사다리 게임 규칙: 세로줄을 따라 아래로 내려가다 가로줄을 만나면 그 가로줄을 따라 이동하고, 다시 세로줄을 만나면 그 세로줄을 따라 내려가는 과정을 반복함.

- ① A에 따르면 개인의 소유권은 절대적 권리로 인식된다.
- ② C는 고의나 과실이 없는 경우에도 일정한 요건에 따라 손해 배상 책임을 질 수 있다는 원칙이다.
- ③ D는 사회·경제적 강자가 약자에게 부당한 계약을 강제하는 수단으로 악용될 수 있다.
- ④ A와 달리 C는 개인주의와 자유주의 사상에 기초하고 있다.
- ⑤ D와 달리 B는 자본주의 발달 과정에서 나타난 문제점을 해결하기 위해 등장하였다.

5. 다음 수업 장면에서 ㉠~㉣에 대한 설명으로 옳은 것은? [3점]

교사: ‘이것’은 기본권 유형 중 하나입니다. 차례대로 힌트를 줄 텐데요. 이것이 무엇인지 알면, 손을 들고 “정답!”이라고 외쳐 주세요. 첫 번째 힌트입니다.

<힌트 1> 이것은 국민이 국가에 대해 일정한 행위를 요구할 수 있는 권리입니다.

갑: 정답! ㉠입니다.

교사: ㉠도 국가에 대해 일정한 행위를 요구할 수 있는 권리이긴 하지만 오답입니다. 다음 힌트를 볼까요?

<힌트 2> 이것은 다른 기본권을 보장하기 위한 수단적 권리라는 성격을 가집니다.

을: 정답! ㉡입니다.

병: 정답! ㉢입니다.

교사: 두 사람이 동시에 답을 말했군요. 하지만 정답을 말한 사람은 병입니다. ㉡은 국가 권력의 간섭을 배제하는 방어적 성격의 기본권입니다.

- ① ㉠은 청구권이다.
- ② ㉡이 최초로 규정된 헌법은 독일의 바이마르 헌법이다.
- ③ ㉢은 다른 모든 기본권 보장의 전제가 되는 기본권이다.
- ④ 공무 담임권은 ㉡이 아닌 ㉠에 해당한다.
- ⑤ 교육을 받을 권리는 ㉠에, 재판 청구권은 ㉢에 해당한다.

6. 다음 사례에 대한 옳은 법적 판단만을 <보기>에서 고른 것은? [3점]

- 불구속 수사를 받던 A는 현재 불구속 상태로 재판 중이다.
- 구속 상태로 재판을 받던 B는 무기 징역 판결이 확정되어 복역하던 중 새로운 증거가 나타나 재심을 통해 무죄 판결이 확정되었다.
- 불구속 상태로 재판을 받던 C는 징역 2년을 선고받아 형이 확정되어 현재 복역 중이다.

— < 보 기 > —

ㄱ. A는 현재 피고인으로서 무죄 추정의 원칙이 적용된다.  
 ㄴ. C는 보석 제도를 활용하여 석방될 수 있다.  
 ㄷ. A와 달리 B는 형사 보상을 청구할 수 있다.  
 ㄹ. B, C의 징역형은 모두 판사의 지휘에 따라 집행된다.

- ① ㄱ, ㄴ    ② ㄱ, ㄷ    ③ ㄴ, ㄷ    ④ ㄴ, ㄹ    ⑤ ㄷ, ㄹ

7. 다음 자료에 대한 설명으로 옳은 것은? (단, A~C는 각각 조약, 국제 관습법, 법의 일반 원칙 중 하나임.)

A는 국제 사회의 반복된 관행이 법적 확신을 얻어 효력을 가지게 된 것으로 국제법의 법원(法源)에서 중요한 위치를 차지해 왔다. 하지만 국제 관계가 다양한 양상을 띠면서 국제법 주체 간에 체결하는 명시적 합의인 B의 중요성도 커지게 되었다. 한편, 국제 사회의 분쟁 해결에 적용할 법규가 없는 경우를 대비하여 ㉠ 국제 사법 재판소에서는 A, B 이외에 C를 하나의 재판 준칙으로 사용한다.

- ① ㉠은 서로 다른 국적을 가진 9인의 재판관으로 구성된다.
- ② 국제기구는 B의 체결 당사자가 될 수 없다.
- ③ C의 예로 ‘신의 성실의 원칙’이 있다.
- ④ C와 달리 A는 우리나라에서 헌법과 동등한 지위를 가진다.
- ⑤ B, C 모두 체결 당사국에 대해서만 구속력을 가진다.

8. 국제 관계를 바라보는 관점 A, B에 대한 설명으로 옳은 것은?

관점	주장
A	○ 국제법을 통한 국제 사회의 분쟁 해결이 가능하다. ○ 인간의 이성과 국가 간 협력을 통해 전쟁을 방지할 수 있다.
B	○ 각국 간 힘의 균형을 확보해야 국제 평화가 유지될 수 있다. ○ 국가 안전을 보장하기 위해 외교적 협력보다 군사력 강화가 필요하다.

- ① A는 국제 관계를 보편적 윤리와 선(善)의 관점으로 설명한다.
- ② B는 집단 안보 체제를 통해 평화를 실현할 수 있다고 본다.
- ③ A와 달리 B는 개별 국가의 이익과 국제 사회 전체의 이익이 조화될 수 있다고 본다.
- ④ B와 달리 A는 국제 사회에서 강제력을 행사할 수 있는 중앙 정부가 존재하지 않는다고 본다.
- ⑤ A, B 모두 국제 문제의 해결 과정에서 초국가적 행위 주체의 역할을 간과한다.

9. 다음은 법원 판결문의 일부이다. 이에 대한 옳은 법적 판단만을 <보기>에서 고른 것은? [3점]

- 원고 ○○주식회사
- 피고 중앙 노동 위원회 위원장
- 주문  
원고의 청구를 기각한다.
- 청구 취지  
중앙 노동 위원회가 2022. 10. 10. 원고와 근로자 A 사이의 부당 해고 재심 신청 사건에 관하여 한 재심 판정을 취소한다.
- 이유  
원고는 생산 부문의 축소를 이유로 A에게 해고를 통보하였고, A는 □□ 지방 노동 위원회에 ㉠ 구제 신청을 하였다. 원고는 초심 판정의 취소를 구하는 재심을 신청하였으나, 중앙 노동 위원회는 이를 기각하는 결정을 하였다. 원고는 이 사건 재심 판정은 위법하다며 ㉡ 소송을 제기하였다. ... (중략) ... 하지만 이 사건 재심 판정은 적법하며, 원고의 청구는 이유 없으므로 주문과 같이 판결한다.

— < 보 기 > —

ㄱ. 원고의 청구 취지에 따라 중앙 노동 위원회 재심 판정은 취소되었다.  
 ㄴ. □□ 지방 노동 위원회는 근로자 A에 대한 원고의 해고 처분이 부당하다는 판정을 내렸다.  
 ㄷ. A가 소속된 노동조합은 ㉠의 주체가 될 수 없다.  
 ㄹ. ㉡은 해고 무효 확인 소송이다.

- ① ㄱ, ㄴ    ② ㄱ, ㄷ    ③ ㄴ, ㄷ    ④ ㄴ, ㄹ    ⑤ ㄷ, ㄹ

10. 다음 자료에 대한 옳은 법적 판단 및 추론만을 <보기>에서 고른 것은? [3점]

[○○ 지역 폭력 사건의 경과]

2021년 1월	시민이 폭행을 당하고 있다는 신고를 받고 출동한 경찰은 폭행에 가담한 갑(19세), 을(20세), 병(40세)을 현행범으로 체포함.
2021년 3월	갑은 기소 유예 처분을 받았고, 불구속 수사를 받던 을과 구속 수사를 받던 병은 기소됨.
2023년 12월	2심에서 을은 형의 선고가 유예되었고, 병은 징역 2년에 집행 유예 2년을 선고받음.
2024년 5월	을의 판결은 확정되었고, 병은 판결에 불복하여 재판이 진행 중임.

— < 보 기 > —

ㄱ. 갑은 피의 사실이 인정되지 않는 불기소 처분을 받았다.  
 ㄴ. 병은 최종심을 담당하는 대법원에 상고하였다.  
 ㄷ. 병과 달리 을은 구속 영장 실질 심사를 받았을 것이다.  
 ㄹ. 을, 병 모두 2심에서 유죄 취지의 판결을 선고받았다.

- ① ㄱ, ㄴ    ② ㄱ, ㄷ    ③ ㄴ, ㄷ    ④ ㄴ, ㄹ    ⑤ ㄷ, ㄹ

11. 다음 사례에 대한 법적 판단으로 옳은 것은? [3점]

갑과 을은 ㉠ 법률혼 상태에서 A와 B를 낳았으나 부부 간 성격 차이로 ㉡ 협의상 이혼을 하였다. 이후 을은 병을 만나 재혼을 하였고, ㉢ 병은 A를 친양자가 아닌 양자로 입양하였다. 한편, 갑은 정을 만나 재혼을 하였고 ㉣ 정은 B를 친양자로 입양하였다. 어느 날 갑과 B는 함께 캠핑을 갔다가 교통사고로 인해 사망하게 되었다. 표는 교통사고 후의 법정 상속 상황 (가), (나)를 가정한 것이다. (가)의 갑 사망 시와 (나)의 B 사망 시 모두에서 갑은 채무 없이 재산만 가지고 있었으며, B는 재산과 채무가 없는 미혼의 미성년자였다. 단, 제시된 내용 이외의 상황은 고려하지 않는다.

(가)	갑이 사망한 후에 B가 사망함.
(나)	B가 사망한 후에 갑이 사망함.

- ① ㉠에서 갑과 을은 혼인 신고를 하지 않은 상태였다.
- ② 갑과 을은 ㉡의 과정에서 이혼 조정 절차를 거쳤을 것이다.
- ③ ㉢과 달리 ㉣에서는 인지 절차가 필요하다.
- ④ (가)에서 갑 사망 후 B 사망 전까지 B에 대한 친권은 을에게 있다.
- ⑤ 정의 법정 상속분은 (나)에서보다 (가)에서 크다.

12. 다음 사례에 대한 법적 판단으로 옳은 것은?

갑(18세)은 결혼식장을 운영하는 을(48세)과 근로 계약을 체결하였다. 갑과 을이 합의한 ㉠ 근로 시간은 매주 토요일 09시부터 18시까지이고, 휴게 시간은 12시부터 13시까지이다. 이후 월급을 받은 갑은 법정 대리인 병의 동의 없이 정(30세)이 판매하는 고가의 가방을 구매하였다. 매매 계약 당시 정은 갑이 미성년자임을 몰랐다.

- ① ㉠은 근로 기준법상 근로 시간 기준을 위반한 것이다.
- ② 을은 갑의 연령을 증명하는 가족 관계 기록 사항에 관한 증명서를 사업장에 갖추어야 한다.
- ③ 병과 달리 갑은 매매 계약을 취소할 수 없다.
- ④ 정은 갑에게 계약 취소 여부에 대한 확답을 요구할 수 있다.
- ⑤ 정은 병의 추인이 있을 때까지 계약 체결의 의사 표시를 철회할 수 있다.

13. 우리나라 국가 기관 A~D에 대한 설명으로 옳은 것은? (단, A~D는 각각 감사원, 국무총리, 국회, 대통령 중 하나임.) [3점]

- ‘행정부에 포함되는가?’라는 질문으로 A와 B는 구분된다.
- ‘대법원장의 임명권을 갖는가?’라는 질문으로 B와 나머지 국가 기관(A, C, D)이 구분된다.
- ‘국무 위원 해임 건의권을 갖는가?’라는 질문에 대한 A와 C의 대답은 ‘예’이고, B와 D의 대답은 ‘아니요’이다.

- ① A는 B에 대한 탄핵 소추권을 갖는다.
- ② B는 C의 동의를 얻어 조약을 체결한다.
- ③ C는 국정 감사를 통해 A를 견제할 수 있다.
- ④ D는 C의 직속 기관이며 직무에 관해 독립된 지위를 갖는다.
- ⑤ A, D 모두 국가 예산안 심의·의결권을 갖는다.

[14~15] 다음 자료를 읽고 물음에 답하시오.

갑국의 시기별 정부 형태는 전형적인 대통령제 또는 전형적인 의원 내각제 중 하나이며, ㉠ t 시기의 정부 형태와 ㉡ t+1 시기의 정부 형태는 다르다. t 시기의 행정부 수반은 A 당 소속이며 국민들의 직접 선거를 통해 선출되었다.

한편, 의회 의원 선거에서 지역구 의원은 8개의 지역구에서 각 2명씩 단순 다수 대표제로 선출된다. 비례 대표 의석은 각 정당이 지역구 의원 선거에서 얻은 유효 투표 득표율에 비례 대표 총의석수를 곱하여 산출된 수의 정수(整數)만큼 각 정당의 의석으로 배분하고, 잔여 의석은 소수점 이하의 수가 큰 순서대로 각 정당에 1석씩 배분한다. 표는 t 시기 갑국의 의회 의원 선거 결과 유효 투표를 집계한 것이며, 비례 대표 총의석수는 15석이다. (단위: 표)

지역구 정당	(가)	(나)	(다)	(라)	(마)	(바)	(사)	(아)	합계
A 당	100	80	110	120	50	20	70	20	570
B 당	10	40	50	40	20	40	50	50	300
C 당	0	10	5	5	100	130	60	90	400
D 당	40	20	25	25	35	15	25	45	230
합계	150	150	190	190	205	205	205	205	1,500

\* 각 정당의 유효 투표 득표율은 유효 투표 총수 중 각 정당 득표수가 차지하는 비율이며, 각 정당은 선거구별로 한 명의 후보자를 공천함.  
\* t 시기의 유권자는 1,900명이며, 400명의 유권자는 기권하였음.

그런데 t+1 시기에 갑국은 기존 선거 제도에 대한 비판을 반영하여 모든 의회 의원을 비례 대표제 방식으로 선출하는 선거 제도로 바꾸면서 정부 형태도 변경하기로 하였다. 그러자 새로운 정당 E 당이 창당되었다. t+1 시기의 의회 의원 정수는 40석이며, 의석 배분 방식은 t 시기의 비례 대표 의석 배분 방식과 동일하다. 단, t 시기에 투표했던 유권자는 t+1 시기에도 동일한 정당에 투표하며, 기권했던 유권자와 t+1 시기에 새롭게 투표권을 얻게 된 유권자(100명)는 모두 E 당에 투표한다. t+1 시기에 무효표는 없다.

14. 밑줄 친 ㉠, ㉡에 대한 설명으로 옳은 것은?

- ① ㉠에서는 의회 의원이 행정부 각료를 겸직할 수 있다.
- ② ㉡에서는 행정부 수반이 법률안 거부권을 가진다.
- ③ ㉠과 달리 ㉡에서는 의회가 내각 불신임권을 가진다.
- ④ ㉡과 달리 ㉠에서는 행정부가 법률안 제출권을 가진다.
- ⑤ ㉠, ㉡의 행정부 수반은 모두 의회에 정치적 책임을 진다.

15. 위 자료에 대한 옳은 분석 및 추론만을 <보기>에서 있는 대로 고른 것은? [3점]

< 보 기 >

ㄱ. t 시기에는 여소야대 국면이 나타난다.  
 ㄴ. t+1 시기에 E 당의 의석수는 총의석수의 1/3이다.  
 ㄷ. t+1 시기의 C 당 총의석률은 t 시기에 비해 낮다.  
 ㄹ. t+1 시기와 달리 t 시기의 D 당은 총의석률이 유효 투표 득표율보다 높다.

- ① ㄱ, ㄴ                      ② ㄱ, ㄷ                      ③ ㄴ, ㄹ
- ④ ㄱ, ㄷ, ㄹ                ⑤ ㄴ, ㄷ, ㄹ

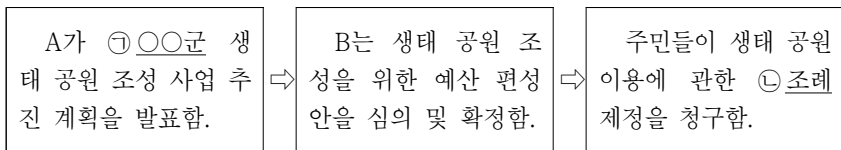
16. 다음 자료에 대한 설명으로 옳은 것은? (단, A~C는 각각 정당, 이익 집단, 시민 단체 중 하나임.)

㉠ **△△신문**      ○○○○년 ○○월 ○○일

□□시는 자전거 도로 설치에 대한 ㉡ 공청회를 개최하였다. 기후 위기 해결을 위해 결성된 A는 자전거 도로 설치에 대해 찬성, 택시 운전자의 이익을 위해 조직된 B는 반대 주장을 펼쳤다. 이에 대해 C는 갑을 □□시 시장 후보로 공천하며 A, B 양측 의견을 고려한 해결책을 제시하였다.

- ① ㉡은 정치 과정에서 산출에 해당한다.
- ② ㉠과 달리 A는 정치적 책임을 진다.
- ③ A와 달리 B는 대의제의 한계를 보완한다.
- ④ B와 달리 C는 정권 획득을 목적으로 조직된 집단이다.
- ⑤ A, B와 달리 ㉠은 여론을 형성하는 기능이 있다.

17. 그림은 ○○군 생태 공원 조성 사업의 경과를 나타낸 것이다. 이에 대한 설명으로 옳은 것은? (단, A와 B는 각각 ○○군수, ○○군 의회 중 하나임.)



- ① ㉠은 광역 자치 단체이다.
- ② B의 모든 구성원은 주민 소환의 대상이 된다.
- ③ A와 B는 서로 수직적 권력 분립 관계에 있다.
- ④ A는 ㉠의 집행 기관이 아닌 의결 기관에 해당한다.
- ⑤ B는 ㉡에 대한 제·개정 및 폐지권을 갖는다.

18. 다음 사례에 대한 법적 판단으로 옳은 것은? [3점]

A는 학생 B가 쓴 장난감 총알에 눈을 맞아 크게 다치는 사고를 당했다. A는 민사상 손해 배상 청구와 별도로 B를 상해죄로 고소할 예정이다. 표는 사고 당시 B의 나이와 민사상 책임 무능력자 여부를 가정한 것이다. B의 법정 감독 의무자는 C이다.

구분		B는 민사상 책임 무능력자인가?	
		예	아니요
B의 나이는?	14세 이상	(가)	(나)
	14세 미만	(다)	(라)

\* 단, B가 재판을 받는 경우 판결이 확정될 때까지 (가)~(라) 중 하나의 상황이 유지됨.

- ① (가)의 경우 A는 손해 배상 책임을 물을 대상이 없다.
- ② (나)의 경우 B는 손해 배상 책임을 질 수 있으며, 소년법의 적용을 받지 않는다.
- ③ (다)의 경우 B는 손해 배상 책임을 지지 않으며, 소년법상 보호 처분의 대상도 아니다.
- ④ (라)의 경우 B는 손해 배상 책임을 질 수 있지만, 형벌 부과 대상은 아니다.
- ⑤ (가), (다) 모두의 경우 B, C는 A에게 공동 불법 행위자의 책임을 진다.

19. 밑줄 친 ㉠~㉢에 대한 옳은 설명만을 <보기>에서 있는 대로 고른 것은? [3점]

도시 계획법 위반으로 ㉠○○ 고등 법원에서 재판 중인 갑은 개발 제한 구역을 지정해 그 안에서는 건축물의 건축 등 개발 행위를 할 수 없도록 규정한 해당 법 조항이 위헌이라고 주장하며 ○○ 고등 법원에 ㉡ 위헌 법률 심판 제청을 신청했지만, 법원은 이를 기각했다. 이에 갑은 ㉢ 헌법 재판소에 ㉣ 헌법 소원 심판을 청구했다.

— < 보 기 > —

- ㄱ. ㉠은 명령·규칙의 위법성에 대한 최종 심사권을 갖는다.
- ㄴ. 갑은 ㉠을 통하지 않고도 ㉡을 제청할 수 있다.
- ㄷ. ㉢은 대통령이 임명하는 9인의 재판관으로 구성된다.
- ㄹ. ㉣은 위헌 심사형 헌법 소원 심판이다.

- ① ㄱ, ㄴ                      ② ㄱ, ㄹ                      ③ ㄷ, ㄹ
- ④ ㄱ, ㄴ, ㄷ                ⑤ ㄴ, ㄷ, ㄹ

20. (가), (나)는 각각 갑, 을에 대한 법원의 판결 내용을 요약한 것이다. 밑줄 친 ㉠~㉢에 대한 옳은 설명만을 <보기>에서 있는 대로 고른 것은? [3점]

(가) ㉠ 청소년 보호법에서 ‘㉡ 청소년에게 주류를 판매하는 행위’란 청소년에게 주류를 유상으로 제공하는 행위를 말하고, 청소년에게 주류를 제공하였다고 하기 위해서는 청소년이 실제 주류를 마시거나 마실 수 있는 상태에 이르러야 한다. 갑은 당시 가게에 있던 청소년에게 그러한 상태에 이르게 하지 않았으므로 갑을 ‘청소년에게 주류를 판매하는 행위’로 처벌할 수 없다.

(나) 을은 자신의 가방을 훔치려는 절도범을 뿌리치는 과정에서 절도범에게 심각한 상해를 입혔으나 그것은 을이 자신의 법익에 대한 부당한 침해를 방위하기 위한 행위로서 상당한 이유가 있으므로 ㉢ 형벌상 ㉣ 상해죄가 성립하는 것으로 볼 수 없다.

— < 보 기 > —

- ㄱ. 법원은 ㉡과 관련하여 갑의 행위가 범죄의 구성 요건에 해당하지만 갑의 책임은 조각된다고 보았다.
- ㄴ. 법원은 을의 행위에 위법성 조각 사유가 있어 ㉢이 성립하지 않는다고 보았다.
- ㄷ. ㉢과 달리 ㉠은 형식적 의미의 형법이다.

- ① ㄱ                      ② ㄴ                      ③ ㄱ, ㄷ                      ④ ㄴ, ㄷ                      ⑤ ㄱ, ㄴ, ㄷ

**\* 확인 사항**

○ 답안지의 해당란에 필요한 내용을 정확히 기입(표기)했는지 확인하십시오.