

제 4 교시

사회탐구 영역(세계사)

성명 수험번호 3 제 () 선택

1. (가) 문명에 대한 설명으로 옳은 것은?

드디어 아부심벨 신전의 가장 깊은 곳에 들어왔어. 파라오 람세스 2세와 신들의 석상이 있네. (가) 문명에서는 파라오를 태양신의 아들로 숭배하였지.

이곳은 1년에 단 두 번만 햇빛이 들어와. 나일강의 범람 시기를 예측하며 발전한 (가) 문명의 천문학 지식이 활용되었대.



- ① 갑골문을 남겼다.
- ② 베다를 제작하였다.
- ③ 피라미드를 축조하였다.
- ④ 모헨조다로를 건설하였다.
- ⑤ 함무라비 법전을 편찬하였다.

2. 밑줄 친 '왕'에 대한 설명으로 옳은 것은? [3점]

서로마 제국이 멸망한 이후 갈리아 지방에서 프랑크족, 부르군트족, 서고트족 등의 대립이 본격화되었다. 프랑크족의 왕은 부르군트족과의 혼인으로 동맹 세력을 확보하고 서고트족을 공략하였다. 그는 부이예 전투에서 서고트족을 격파하고 갈리아 지방의 대부분을 차지하였다. 이러한 그의 성공에는 로마 가톨릭교로 개종하여 교회 조직의 지지를 확보한 것이 큰 힘이 되었다.

- ① 메로베우스 왕조를 열었다.
- ② 니케아 공의회를 소집하였다.
- ③ 성 소피아 성당을 건설하였다.
- ④ 카롤루스 르네상스를 일으켰다.
- ⑤ 카노사성에서 교황에게 굴복하였다.

3. (가) 황제의 재위 시기에 있었던 사실로 옳은 것은?

이 섬은 네덜란드인에 의해 점거되었는데, 정성공이 와서 네덜란드인을 몰아내고 이곳을 근거지로 삼았다. 그의 아들 정경은 삼변의 난이 일어나자, 그 틈을 타고 여러 차례 동남해안 일대를 침공하였다. ... (중략) ... (가)의 명을 받은 시랑이 평후를 점령하자 정경은 근심으로 세상을 뜨고 그 뒤를 이은 아들 정극상이 마침내 (가)에게 항복하였다.

- ① 균전제가 시행되었다.
- ② 균기처가 설치되었다.
- ③ 정화의 함대가 파견되었다.
- ④ 왕안석이 신법을 추진하였다.
- ⑤ 네르친스크 조약이 체결되었다.

4. (가) 왕조에 대한 설명으로 옳은 것은? [3점]

중국 역사서에 기록된 (가)

수만 명의 무리가 북을 치며 서쪽으로 행군해 가서 말환을 생포하여 죽였다. 드디어 핵심 종족인 아포라발을 구할 수 있었으며 그를 군주로 세웠다. ... (중략) ... 아포라발이 죽자, 그의 동생 아포공불을 군주로 세웠다. 숙종 지덕 초기 사자를 보내와 조공하였으며, 당시에 군사령관이었던 황태자가 그 나라의 군대를 이용하여 수도 장안을 수복하였다.

이전 왕조의 마지막 칼리프 마르완 2세

쿠라이시 부족 내의 무함마드 일가

(가)의 제2대 칼리프 만수르

안사의 난 당시 (가) 군대의 도움을 받음.

- ① 바그다드를 건설하였다.
- ② 콘스탄티노폴리스를 정복하였다.
- ③ 시아파 이슬람교를 국교로 삼았다.
- ④ 투르·푸아티에 전투에서 패배하였다.
- ⑤ 알렉산드로스의 침공을 받아 멸망하였다.

5. 밑줄 친 '새 역법'을 제정한 왕조에 대한 설명으로 옳은 것은?

대저 천체는 쉬지 않고 운행하기 때문에 법칙을 정해 보아도 오래 지나지 않아 차이가 생기지 않을 수 없다. 그 차이는 고쳐야 하는 것이니 태사원의 왕순, 광수경 등이 수시로 관측하고 수치의 정확성을 고증하여 천체의 운행에 합치하는 새 역법을 완성하였다. 이에 지원 18년 정월 1일부터 실시할 것을 천하에 포고하니 모두 잘 알아 두어라.

- ① 사고전서를 편찬하였다.
- ② 분서갱유를 단행하였다.
- ③ 파스파 문자를 사용하였다.
- ④ 원강 석굴 사원을 조성하였다.
- ⑤ 베이징에 자금성을 건설하였다.

세계사

6. 밑줄 친 ‘봉기’가 끼친 영향에 대한 탐구 활동으로 가장 적절한 것은? [3점]

수도 뤼양과 지방에서 백성들 사이에 ‘창천(蒼天)은 이미 죽고 황천(黃天)이 서야 하니 갑자년이 되면 천하가 크게 길할 것이다.’라는 말이 떠돌아다니고 있었다. ... (중략) ... 장각 등은 일이 이미 탄로 난 것을 알고 무리에게 명령을 빠르게 전하니, 일시에 봉기가 일어났다. 모두 노란 두건을 써서 표지로 삼았는데 당시 사람들은 그것을 ‘황건’이라고 하였다.

- ① 주원장을 지지한 세력의 특징을 파악한다.
- ② 유방이 중국을 재통일하는 과정을 조사한다.
- ③ 5대 10국 시대의 혼란이 일어난 원인을 분석한다.
- ④ 위·촉·오의 삼국 시대가 전개된 배경을 알아본다.
- ⑤ 만주족이 베이징을 차지한 시기의 정세를 살펴본다.

7. (가) 종파에 대한 탐구 활동으로 가장 적절한 것은? [3점]

종교 개혁가 ○○의 발자취를 찾아서

바젤 스트라스부르 제네바

『크리스트교 강요』의 개정판을 집필한 장소에 세워진 부클리에 개혁 교회

이 도시에서 ○○이/가 첫 설교를 한 성 니콜라 교회


○○의 이름을 딴 거리

○○이/가 39세 때부터 3년간 머물렀던 도시이다. 이곳에서 그는 『크리스트교 강요』의 개정판을 집필하며 예정설을 정립하였다. 그의 주장은 유럽 전역에 널리 퍼졌고, 이를 따르는 (가) 신교도를 프랑스에서는 위그노, 네덜란드에서는 고이센, 영국에서는 청교도로 불렀다.

- ① 보름스 협약의 결과를 파악한다.
- ② 황제 교황주의의 의미를 살펴본다.
- ③ 베스트팔렌 조약의 내용을 분석한다.
- ④ 동서 교회가 분열되는 과정을 정리한다.
- ⑤ 콘스탄츠 공의회가 소집된 배경을 알아본다.

8. (가) 막부 시기에 있었던 사실로 옳은 것은?

저는 지금 (가) 시기 사람들이 공연을 관람하는 모습을 묘사한 우키요에 안으로 들어와 있습니다. 제가 서 있는 통로는 하나미치라고 하는데 배우들이 등장하고 퇴장할 때 사용되었습니다. 좌우 양측에 1, 2층으로 마련된 객석은 가운데 객석보다 가격이 비싸 부유한 무사와 조닌이 주로 이용하였다고 합니다.



- ① 견당사가 폐지되었다.
- ② 일본서기가 편찬되었다.
- ③ 도다이사가 창건되었다.
- ④ 다이카 개신이 단행되었다.
- ⑤ 산킨코타이 제도가 시행되었다.

9. (가) 황제의 재위 시기에 볼 수 있는 모습으로 가장 적절한 것은? [3점]

(가) 은/는 형과 아버지를 몰아내고 황제로 즉위하였다. 그는 할아버지 자한기르 같은 문학과 예술의 애호가도 아니었고, 아버지 샤자한과 달리 건축에도 관심이 없었다. 그는 종교에 집착하였고 자신의 종교 외에 어떤 종교도 용납하지 않았다. 또한 지즈야를 부활시키고 다수의 힌두교도를 관직에서 추방하였다.

- ① 쿠틀브 미나르를 건설하는 인부
- ② 펀자브 지방에서 봉기하는 시크교도
- ③ 에프탈의 침입에 맞서 전투를 벌이는 병사
- ④ 플라시에서 전투를 벌이는 영국군과 프랑수군
- ⑤ 롤렛법의 폐지와 자치를 요구하는 민족 운동가

10. 밑줄 친 ‘개혁’이 추진된 배경으로 가장 적절한 것은?

가이우스에 따르면 그의 형 티베리우스는 누만티아로 갈 때 농토가 황폐해진 모습과 정복지에서 끌려온 노예들이 경작하고 목축하는 모습을 보고 개혁을 결심하게 되었다고 한다. ... (중략) ... 호민관으로 당선된 티베리우스가 제안한 법률은 대토지 소유를 제한하고, 보유 상한선을 초과하는 토지는 몰수하여 이것을 다시 가난한 사람들에게 나누어 주려는 것이었다. 그러나 귀족들은 이 법률에 반대하며 들고일어났다.

- ① 라티퐁디움이 확대되었다.
- ② 콜로나투스법이 확산되었다.
- ③ 스파르타쿠스의 난이 발생하였다.
- ④ 헤일로타이가 토지를 경작하였다.
- ⑤ 카이사르가 삼두 정치를 주도하였다.

11. 밑줄 친 '술탄'에 대한 설명으로 옳은 것은? [3점]

술탄의 원정이 실패한 또 다른 이유는 무엇입니까?

원정군은 엄청난 양의 대포와 포탄을 싣고 수천 킬로미터를 이동해야 했습니다. 5월에 수도 이스탄불을 떠났는데, 9월 말에야 빈에 도착할 수 있었습니다.

또한 3년 전 헝가리를 정복했을 때와 달리 날씨가 너무 좋지 않았습니다. 결국 빈에 도착한 지 고작 20여 일만에 원정군은 철수하였습니다.

- ① 탄지마트를 추진하였다.
- ② 비잔티움 제국을 멸망시켰다.
- ③ 몽골 제국의 재건을 내세웠다.
- ④ 동지중해의 제해권을 장악하였다.
- ⑤ 사산 왕조 페르시아를 정복하였다.

12. 자료를 활용한 수업 주제로 가장 적절한 것은?

농노에게 토지를 넘기고 대가를 챙긴 나이 든 지주들은 샹트페테르부르크에서 그 돈을 쓸 궁리만 하고 있다. 지난 농노 해방은 지주들이 거액을 벌어들일 좋은 기회였다. ...(중략)... 하지만 청년들은 한 달에 10루블에 못 미치는 돈으로 생활하면서도 공장에서 열심히 일하며 '브나로드!'를 외치고 있다. ...(중략)... 그들은 민중 속으로 들어가는 것이 유일한 방법이라는 결론을 얻은 것 같다.

- ① 표트르 대제와 서구화 정책
- ② 남북 전쟁과 노예 해방 선언
- ③ 2월 혁명과 제2 공화정 성립
- ④ 차티스트 운동과 인민헌장 발표
- ⑤ 알렉산드르 2세의 개혁과 그 영향

13. 밑줄 친 '전쟁'의 결과로 옳은 것은? [3점]

전쟁이 시작되고 수개월간 영국은 뚜렷한 결과를 얻지 못하였다. 게다가 세포이의 봉기가 일어나 중국으로 군사력을 집중하기 어려웠다. 하지만 점차 인도의 상황이 안정되자 영국은 광저우를 점령할 충분한 병력을 동원할 수 있게 되었다. 영국은 프랑스와 함께 광저우를 함락하고 북상하여 다구포대를 점령하였다. 그리고 중국에 조약 체결을 강요하였다.

- ① 삼국 간섭이 일어났다.
- ② 공행 무역이 폐지되었다.
- ③ 포츠머스 조약이 체결되었다.
- ④ 외교관의 베이징 주재가 허용되었다.
- ⑤ 외국 군대의 베이징 주둔이 인정되었다.

14. 밑줄 친 '이 왕조' 시기의 문화에 대한 설명으로 옳은 것은?

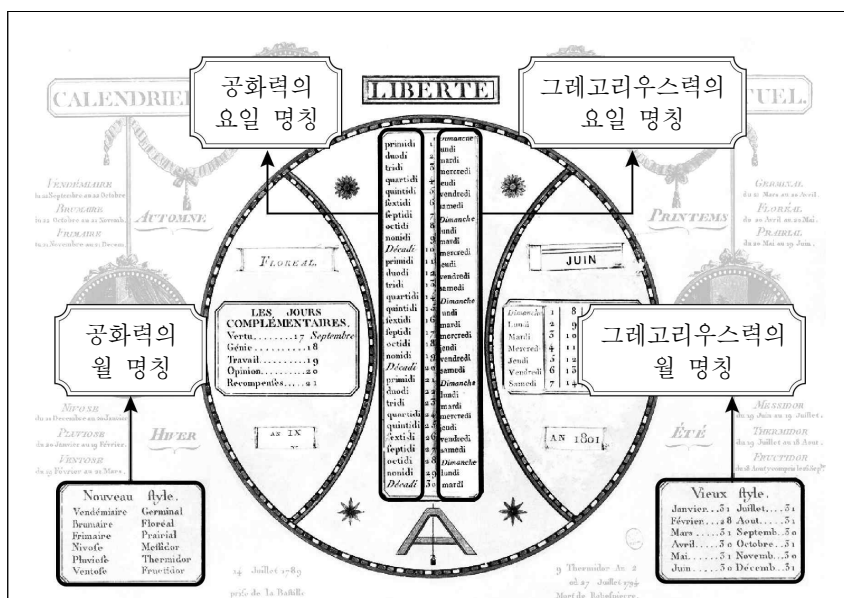
불교 미술사

인도편

사진은 이 왕조 시기에 제작된 불상이다. 초기 불교에서는 발자국, 연꽃 등으로 부처를 표현하였다. 이후 이 왕조 때에 이르러 불상이 등장하였다고 한다. 이러한 변화는 헬레니즘 문화와 인도 문화가 융합된 결과로 보인다.

- ① 타지마할이 조성되었다.
- ② 앙코르 와트가 축조되었다.
- ③ 간다라 양식이 유행하였다.
- ④ 페르세폴리스가 건설되었다.
- ⑤ 칼리다사가 사쿠타라를 남겼다.

15. 밑줄 친 '제정'이 이루어진 시기를 연표에서 옳게 고른 것은? [3점]




이 자료는 기존의 그레고리우스력과 새로 제정된 공화력을 함께 표시해 사용했던 달력이다. 프랑스에서 공화력이 제정된 해에는 루이 16세를 처형하는 등 구제도를 상징하는 요소들을 제거하려는 다양한 시도가 나타났다.

(가)	(나)	(다)	(라)	(마)
루이 16세, 삼부회 소집	혁명전쟁 발발	테르미도르 반동	통령 정부 수립	제1 제정 성립
빈 회의 개최				

- ① (가) ② (나) ③ (다) ④ (라) ⑤ (마)

16. 밑줄 친 ‘이 전쟁’ 시기에 있었던 사실로 옳은 것은?

저는 지금 순양함 ‘오로라’ 앞에 있습니다. 이 배는 이 전쟁 중에 러시아에서 일어난 두 차례 중요한 혁명의 순간을 함께했습니다. 이 배의 일부 승무원들은 제정을 붕괴시킨 혁명에 노동자와 함께 참여하였고, 임시 정부를 무너뜨린 혁명에서는 공격의 시작을 알리는 신호탄이 이 배에서 발사되기도 하였습니다.



- ① 국제 연맹이 창설되었다.
- ② 닉슨 독트린이 발표되었다.
- ③ 두 차례의 모로코 사건이 일어났다.
- ④ 독일이 무제한 잠수함 작전을 전개하였다.
- ⑤ 연합군이 노르망디 상륙 작전을 감행하였다.

17. (가) 국가에 대한 설명으로 옳은 것은? [3점]

[가] 은/는 엔히크 왕자의 후원으로 서아프리카 항로를 개척한 이래, 콩고강 하류 지역과 앙골라 지역을 거점으로 노예 무역을 비롯한 교역을 전개하였다. 그러나 19세기 후반 벨기에와 프랑스가 콩고강 하류 지역으로 세력을 확장하면서 세 나라 사이에 갈등이 발생하였다. 이러한 갈등을 조정하기 위해 베를린 회담이 개최되었다. 회담의 결과 [가] 은/는 콩고강 하류 지역을 포기하게 되었다.

- ① 괌과 하와이를 차지하였다.
- ② 헤레로족의 봉기를 진압하였다.
- ③ 파쇼다에서 프랑스와 충돌하였다.
- ④ 아도와 전투에서 에티오피아에 패배하였다.
- ⑤ 마카오를 식민지로 삼아 교역 거점으로 활용하였다.


18. 밑줄 친 ‘이 사건’의 영향으로 가장 적절한 것은?

처음 난징에 도착했을 때만 하더라도 나는 이 사건에 대해 아는 바가 전혀 없었네. 비행기를 타고 이곳에 도착하여 장쉐량을 만났을 때 비로소 전말을 듣게 되었지. 장쉐량은 반일 투쟁을 촉구하는 학생 시위를 진압할 것 인지를 두고 장제스와 의견 대립이 발생하면서 문제가 시작되었다고 말했네. 장쉐량은 장제스에게 공산당 토벌을 중지하고 반일 투쟁을 강화할 것을 건의하였지만 거절당하자 그를 감금한 이 사건을 일으켰다고 하네.

- ① 5·4 운동이 일어났다.
- ② 중국 동맹회가 결성되었다.
- ③ 변법자강 운동이 전개되었다.
- ④ 제2차 국공 합작이 이루어졌다.
- ⑤ 중국 공산당이 대장정을 단행하였다.

19. (가), (나) 국가 사이의 관계에 대한 설명으로 옳은 것은?

[3점]



이 그림은 베를린 봉쇄를 풍자한 것이다. 스탈린과 그의 측근들이 “도로 폐쇄”, “철도 폐쇄”라고 쓴 팻말을 목에 걸고 육로는 막고 있지만, 항공로는 차단하지 못한 상황이 나타나 있다. 당시 [가] · 영국 · 프랑스가 독일 내의 자국 관할 구역에서 새로운 통화 제도를 도입하려 하자, 이에 반발하여 [나] 이/가 베를린 봉쇄를 단행하였다. 서방 국가들은 봉쇄를 뚫고 고립된 베를린 지역에 약 1년간 비행기로 엄청난 양의 생필품을 공수하였다.

- ① 폴란드를 분할 점령하였다.
- ② 전략 무기 제한 협정[SALT]을 체결하였다.
- ③ 카슈미르 지역을 둘러싸고 영토 분쟁을 벌였다.
- ④ 알자스 · 로렌 지방의 지배권을 두고 대립하였다.
- ⑤ 반동 회의에 참여하여 평화 10원칙을 발표하였다.

20. (가) 기구에 대한 설명으로 옳은 것은?

세계사 신문 2012년 10월 ○○일

올해의 노벨 평화상 자격 논란

노벨 위원회는 “올해의 노벨 평화상을 유럽의 평화와 화합, 민주주의, 인권 신장에 기여한 [가] 에 수여하기로 하였다.”라고 발표하였다. 이 기구는 현재 27개 회원국으로 구성되어 있다. 이 소식이 알려지자 회원국들은 오히려 의아한 반응을 보이고 있다. [가] 이/가 단일 통화로 도입한 유로화의 가치가 하락하고, 일부 회원국들의 신용 등급이 하락되는 상황에서 상을 받을 명분이 없다는 비판도 제기되고 있다.

- ① 대서양 헌장을 발표하였다.
- ② 제1차 비동맹 회의를 개최하였다.
- ③ 상임 이사국에 거부권을 부여하였다.
- ④ 브레튼우즈 체제의 성립에 기여하였다.
- ⑤ 마스트리흐트 조약에 따라 출범하였다.

*** 확인 사항**

○ 답안지의 해당란에 필요한 내용을 정확히 기입(표기)했는지 확인하십시오.