

제 4 교시

사회탐구 영역(사회·문화)


성명		수험번호				3				제 ( ) 선택
----	--	------	--	--	--	---	--	--	--	----------

1. 밑줄 친 ㉠~㉣과 같은 현상의 일반적인 특징에 대한 설명으로 옳은 것은?

오로라는 태양으로부터 날아오는 ㉠ 고에너지 입자가 대기의 공기 분자와 충돌하여 나타나는 현상이다. 최근 태양 표면에서 강력한 폭발이 일어나 ㉡ 세계 곳곳의 하늘에서 오로라가 나타났다. 이 시기에는 항공기가 방사선에 더 많이 노출되어 통신용 전파가 교란될 가능성이 높아진다. 이에 정부는 태양 표면의 강력한 에너지 분출로 인해 발생할 수 있는 ㉢ 문제 상황에 대처하기 위한 시스템을 마련하기로 하였다.


- ① ㉠과 같은 현상은 가치 함축적이다.
- ② ㉡과 같은 현상은 확실성의 원리가 적용된다.
- ③ ㉠과 같은 현상에 비해 ㉢과 같은 현상은 인과 관계가 분명하다.
- ④ ㉢과 같은 현상과 달리 ㉡과 같은 현상은 보편성과 특수성이 공존한다.
- ⑤ ㉢과 같은 현상과 달리 ㉠, ㉡과 같은 현상은 경험적 자료로 연구할 수 있다.


2. 사회·문화 현상을 바라보는 갑~병의 관점에 대한 설명으로 옳은 것은? (단, 갑~병의 관점은 각각 기능론, 갈등론, 상징적 상호 작용론 중 하나임.) [3점]



최근 편의점 도시락의 소비가 급증한 이유가 무엇일까요?


과거와 달리 편의점 도시락이 한 끼 식사를 해결하기 충분하다고 여기는 사람들이 증가하였기 때문입니다.





신속하고 간편한 식사를 가능하게 하는 편의점 도시락이 시간적 효율성을 중시하는 사회 구조에 부합하였기 때문입니다.

불공정한 분배 체계의 심화로 형편이 어려워진 사람들이 저렴한 편의점 도시락으로 끼니를 해결하려고 하기 때문입니다.



- ① 갑의 관점은 집단 간 갈등을 사회 변동의 원동력으로 본다.
- ② 병의 관점은 사회 문제를 설명하는 데 사회 구조적 요인을 간과한다는 비판을 받는다.
- ③ 을의 관점과 달리 갑의 관점은 사회의 각 부분이 상호 의존적으로 연관되어 있다고 본다.
- ④ 병의 관점과 달리 을의 관점은 사회적 갈등을 균형 회복을 위한 일시적인 과정으로 본다.
- ⑤ '상황 정의에 기초한 개인 간 상호 작용을 중시하는가?'라는 질문으로 을과 병의 관점을 구분할 수 있다.

3. 일탈 이론 A~C에 대한 설명으로 옳은 것은? (단, A~C는 각각 낙인 이론, 머튼의 아노미 이론, 차별 교제 이론 중 하나임.) [3점]

이론	이론을 적용하여 설명한 사례
A	갑은 동네 가게에서 물건을 훔치던 선배들과 어울려 지내면서 그들의 가치관과 태도를 내면화한 결과 상습 절도범이 되었다.
B	물질적 풍요가 중시되는 사회에서 부자가 되고 싶었지만 가난으로부터 벗어날 방법이 없었던 을은 현금 인출기를 부수고 고액의 현금을 훔쳤다.
C	동네 가게에서 호기심에 물건을 가져온 병은 주변으로부터 도둑이라는 비난을 받으면서 부정적인 자아가 형성되어 이후 절도를 일삼게 되었다.

- ① A는 차별적인 제재를 일탈 행동의 원인으로 본다.
- ② B는 일탈 행동에 대한 대책으로 정상 집단과의 교류 촉진을 강조한다.
- ③ C는 1차적 일탈이 2차적 일탈로 이어지는 과정에 주목한다.
- ④ A와 달리 C는 상호 작용을 통한 일탈 행동의 학습 과정에 주목한다.
- ⑤ C와 달리 A, B는 일탈 행동을 규정하는 객관적 기준이 없다고 본다.

4. 다음 자료에 대한 설명으로 옳은 것은? (단, A~C는 각각 면접법, 질문지법, 참여 관찰법 중 하나임.) [3점]

표는 자료 수집 방법 A~C의 일반적인 특징을 묻는 질문과 학생의 응답 및 교사의 채점 결과를 나타낸 것이다.

질문	응답
C와 달리 A, B는 조사 대상자와의 언어적 상호 작용이 필수적인가?	예
A와 달리 B, C는 조사 대상자의 주관적 인식을 파악할 수 있는가?	예
(가)	아니요
채점 결과	2점

\* 각 질문에 대한 응답이 옳으면 1점, 옳지 않으면 0점을 부여함.

- ① A, B에 비해 C는 구조화·표준화 정도가 높다.
- ② A, B 모두 조사 대상자와의 정서적 교감 형성을 중시한다.
- ③ A가 수집된 자료의 통계 처리가 용이한 방법이라면, (가)에는 'C와 달리 B는 인위적으로 통제된 상황에서 변인의 효과를 관찰하는 방법인가?'가 들어갈 수 있다.
- ④ B가 다수를 대상으로 한 자료 수집에 유리한 방법이라면, (가)에는 'C에 비해 A는 실제성이 높은 생생한 자료를 확보하기 용이한가?'가 들어갈 수 없다.
- ⑤ (가)에 'B와 달리 A는 주로 질적 연구에서 사용하는 방법인가?'가 들어간다면, A에 비해 B는 조사자의 주관적 가치가 개입될 가능성이 낮다.

5. (가)와 달리 (나)에만 부각되어 있는 문화의 속성에 대한 진술로 옳은 것은?

(가) 우리나라에서 소나 말이 과거에는 짐을 실어 나르거나 사람을 태우고 이동하는 교통수단으로 이용되었지만 현재는 교통수단으로 거의 이용되지 않는다.  
 (나) 우리나라에 새롭게 도입된 교통수단인 전차는 사람들의 의식과 태도에 변화를 초래하였다. 승객들이 신분이나 성별이 아닌 지불한 요금에 따라 상·하등 칸으로 나뉘어 타게 되면서 양반과 상민의 엄격한 구분, 남녀칠세부동석과 같은 사회적 금기가 점차 약화하였다.

- ① 문화는 상징을 통해 후천적으로 학습된다.
- ② 문화는 세대 간 전승을 통해 더욱 풍부해진다.
- ③ 문화는 시간이 흐르면서 그 형태나 내용이 변화한다.
- ④ 문화는 여러 요소들이 상호 유기적으로 결합되어 있다.
- ⑤ 문화는 구성원 간에 사고와 행동의 동질성을 갖게 한다.

6. 사회 불평등 현상을 바라보는 관점 A에 부합하는 진술만을 <보기>에서 고른 것은?

A를 반박하는 학자들은 여러 직업의 기능적 중요성을 정확히 판단하기 어려울 뿐만 아니라 한 사회가 원활히 돌아가는데 중요하지 않은 직업은 없다고 주장한다.

< 보 기 >

ㄱ. 사회 불평등 현상은 개인의 성취동기 유발에 기여한다.  
 ㄴ. 사회적 희소가치 배분 기준은 사회적으로 합의된 것이다.  
 ㄷ. 사회의 발전을 위해 사회 불평등 현상은 제거되어야 한다.  
 ㄹ. 사회의 차등 분배 체계는 기존의 불평등 구조를 재생산하는 수단이다.

- ① ㄱ, ㄴ    ② ㄱ, ㄷ    ③ ㄴ, ㄷ    ④ ㄴ, ㄹ    ⑤ ㄷ, ㄹ

7. 다음 자료에 대한 옳은 설명만을 <보기>에서 고른 것은? (단, A~C는 각각 문화 상대주의, 문화 상대주의, 자문화 중심주의 중 하나임.) [3점]

○ '서로 다른 사회의 문화에 대해 우열을 판단할 수 있다고 보는가?'라는 질문으로 A와 B를 구분할 수 없다.  
 ○ '(가)'라는 질문으로 A와 B를 구분할 수 있다.

< 보 기 >

ㄱ. A, B와 달리 C는 문화의 다양성 보존에 기여한다.  
 ㄴ. A가 타 문화를 맹목적으로 추종하는 태도라면, B는 자문화의 정체성을 약화시킬 수 있다는 비판을 받는다.  
 ㄷ. (가)에는 '문화 제국주의로 변질될 수 있다는 비판을 받는가?'가 들어갈 수 있다.  
 ㄹ. (가)에는 '해당 사회의 상황과 맥락을 고려하여 문화를 이해하는가?'가 들어갈 수 있다.

- ① ㄱ, ㄴ    ② ㄱ, ㄷ    ③ ㄴ, ㄷ    ④ ㄴ, ㄹ    ⑤ ㄷ, ㄹ

8. 다음 자료에 대한 설명으로 옳은 것은?

㉠ 중학교 때 갑은 ㉡ 어머니를 따라 ㉢ 환경 단체에 가입해 지금까지 함께 활동하고 있다. ㉣ 회사의 ㉤ 사장인 어머니가 고등학교에 입학한 갑에게 학업을 위해 환경 단체 활동을 그만두라고 하여, 갑은 어머니와 ㉥ 갈등하고 있다.

- ① 갑과 갑의 어머니가 각각 속해 있는 이익 사회의 개수는 같다.
- ② ㉠과 달리 ㉡은 자발적 결사체이다.
- ③ ㉢은 공식 조직이자 공식적 사회화 기관이다.
- ④ ㉤과 달리 ㉣은 귀속 지위이다.
- ⑤ ㉥은 갑의 역할 갈등이다.

9. (가)에 들어갈 내용으로 가장 적절한 것은?

필터 버블이란 인터넷 정보 제공자가 이용자에게 맞춤형 정보를 제공함으로써 이용자가 걸러진 정보만을 접하게 되는 현상을 말한다. 필터 버블에 갇힌 사람들은 자신의 의견과 일치하는 정보만을 접하게 되고 자신이 가진 견해가 더 널리 퍼져 있거나 더 옳다고 믿게 되는 확증 편향에 빠지기 쉽다. 이러한 문제를 해결하기 위해 (가)

- ① 저작권 침해 예방 교육이 필요하다.
- ② 정보 취약 계층에 정보 기기를 지원해야 한다.
- ③ 거짓 정보 유포에 대한 법적 규제를 강화해야 한다.
- ④ 정보 기기 사용 시간에 대한 자기 조절 능력을 배양해야 한다.
- ⑤ 온라인상에서 접하는 정보에 대한 비판적 수용 태도가 필요하다.

10. 다음 자료에 대한 옳은 분석만을 <보기>에서 고른 것은? [3점]

표는 갑국의 객관적, 주관적 차원의 계층 구성을 나타낸 것이다. ㉠ 객관적 차원의 계층은 소득과 자산을 기준으로 파악한 것이고, ㉡ 주관적 차원의 계층은 자신이 어느 계층에 속한다고 생각하는지를 응답하게 하여 파악한 것이다. 계층은 A, B, C로 구분되며, A~C는 각각 상층, 중층, 하층 중 하나이다. 객관적 차원에서 A에서 B로의 이동은 상승 이동, A에서 C로의 이동은 하강 이동에 해당한다.

(단위: %)

구분	객관적 차원의 계층			합계	
	A	B	C		
주관적 차원의 계층	A	25	15	20	60
	B	5	4	0	9
	C	5	1	25	31
합계		35	20	45	100

< 보 기 >

ㄱ. ㉠의 계층 구조는 다이아몬드형이다.  
 ㄴ. ㉠보다 ㉡이 높은 사람은 ㉡보다 ㉠이 높은 사람보다 적다.  
 ㄷ. ㉠이 하층인 사람 중에서 ㉡이 상층인 사람은 없다.  
 ㄹ. ㉠의 계층별 인구 중 ㉠과 ㉡이 일치하지 않는 인구의 비율은 상층이 가장 높다.

- ① ㄱ, ㄴ    ② ㄱ, ㄷ    ③ ㄴ, ㄷ    ④ ㄴ, ㄹ    ⑤ ㄷ, ㄹ

11. 다음 글에 나타난 개인과 사회의 관계를 바라보는 관점에 대한 옳은 설명만을 <보기>에서 고른 것은?

사회학은 사회적 사실을 연구하는 과학이다. 법, 규범, 문화, 종교 등과 같은 사회적 사실은 개인의 사고와 행동을 구속하는 실체로서 개인의 외부에 지속적으로 존재한다.

- < 보 기 >
- ㄱ. 개인이 주체적이고 능동적인 존재임을 강조한다.
  - ㄴ. 사회의 속성은 개인의 속성으로 환원할 수 없다고 본다.
  - ㄷ. 사회는 개인의 이익 실현을 위한 수단에 불과하다고 본다.
  - ㄹ. 사회 문제 해결책으로 의식 개선보다 제도 개혁을 중시한다.

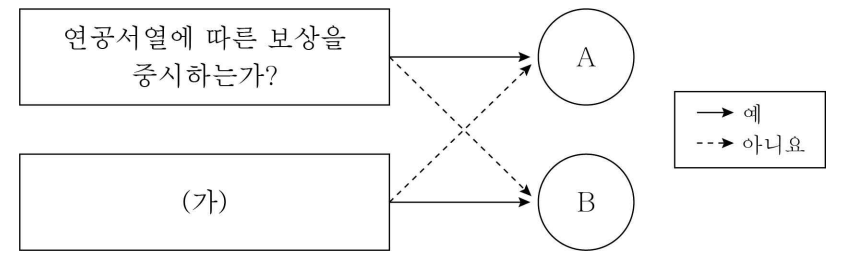
- ① ㄱ, ㄴ    ② ㄱ, ㄷ    ③ ㄴ, ㄷ    ④ ㄴ, ㄹ    ⑤ ㄷ, ㄹ

12. 밑줄 친 ㉠~㉣에 대한 설명으로 옳은 것은? [3점]

연구자 갑은 ㉠집단 구성원 간 친밀감에 ㉡의사소통 시 소셜 미디어 사용 여부가 미치는 영향을 파악하고자 가설을 설정하고 ㉢연구를 진행하였다. 이를 위해 서로 전혀 모르는 사이였던 성인 20명을 모집하여 각각 10명씩 A, B 두 집단으로 나눈 후 2주간 각 집단끼리 함께 생활하게 하였다. 그 기간 동안 ㉣A 집단은 대면 소통과 소셜 미디어를 사용한 소통을 병행하게 하고, 처치를 하지 않는 집단인 ㉤B 집단은 대면 소통만을 하게 하였다. 2주 후 전체 참가자를 대상으로 ㉥정서적 지지의 정도, 개인적 정보의 공유 정도 등을 측정하였다. 그 결과 B 집단에 비해 A 집단의 구성원 간 친밀감이 유의미하게 높은 것으로 나타나 ㉦가설이 수용되었다.

- ① ㉠은 독립 변인, ㉡은 종속 변인이다.
- ② ㉢은 방법론적 이원론에 기초한 연구이다.
- ③ ㉣은 통제 집단, ㉤은 실험 집단이다.
- ④ ㉥은 ㉠에 대한 조작적 정의에 해당한다.
- ⑤ ㉦은 '의사소통 시 소셜 미디어 사용이 집단 구성원 간 친밀감에 부(-)의 영향을 미칠 것이다.'이다.

13. 그림은 사회 조직의 운영 원리 A, B를 구분한 것이다. 이에 대한 설명으로 옳은 것은? (단, A, B는 각각 관료제, 탈관료제 중 하나임.)



- ① A는 조직 구성원의 재량권 보장을 중시한다.
- ② A에 비해 B는 업무의 전문화·세분화 정도가 높다.
- ③ B에 비해 A는 환경 변화에 유연한 대처가 용이하다.
- ④ (가)에는 '효율적인 조직 운영을 추구하는가?'가 들어갈 수 있다.
- ⑤ (가)에는 '하향식 의사 결정 방식을 중시하는가?'가 들어갈 수 없다.

14. 다음 자료에 대한 옳은 설명만을 <보기>에서 고른 것은? (단, A, B는 각각 순환론, 진화론 중 하나임.) [3점]

○ 게임 규칙: 갑, 을은 A, B 중 하나에 대한 설명이 적힌 [카드 1]~[카드 5]가 각각 1장씩 모두 5장이 들어 있는 카드 꾸러미를 각자 배부받는다. 갑, 을은 각각 자신의 꾸러미에서 카드를 2장씩 뽑고, 획득한 총점이 큰 사람이 승리한다. 카드 1장당, 카드 내용이 A에 대한 설명이면 2점, B에 대한 설명이면 1점을 받는다.

- [카드 1] 사회 변동을 사회 발전으로 인식한다.
- [카드 2] 서구 중심적 사고라는 비판을 받는다.
- [카드 3] 사회 변동은 일정한 방향성을 가진다고 본다.
- [카드 4] 사회 변동을 운명론적 관점에서 설명한다.
- [카드 5] (가)

○ 게임 결과: 갑은 [카드 1]과 [카드 2]를, 을은 [카드 3]과 ㉠을/를 뽑아 갑이 승리하였다.

- < 보 기 >
- ㄱ. ㉠은 [카드 4]가 될 수 있다.
  - ㄴ. A는 사회마다 사회 변동의 방향이 다르다고 본다.
  - ㄷ. B는 사회 변동에 대응하는 인간의 노력을 과소평가한다는 비판을 받는다.
  - ㄹ. (가)에 '사회가 미분화된 상태에서 분화된 상태로 변동한다고 본다.'가 들어간다면, ㉠은 [카드 5]가 될 수 있다.

- ① ㄱ, ㄴ    ② ㄱ, ㄷ    ③ ㄴ, ㄷ    ④ ㄴ, ㄹ    ⑤ ㄷ, ㄹ

15. 다음 자료에 대한 분석으로 옳은 것은? [3점]

갑국은 우리나라와 동일한 사회 보장 제도 A, B만을 시행하고 있다. A, B 모두 금전적 지원을 원칙으로 하며, A는 정부 재정으로 비용을 전액 충당하는 것을 원칙으로 하는 제도이고, B는 수혜자 비용 부담 원칙을 적용하는 제도이다. 표는 갑국의 (가), (나) 지역 인구 중 A, B 수급자 비율을 나타낸 것이다. 갑국은 (가), (나) 지역만으로 구성되며, 인구는 (나) 지역이 (가) 지역의 2배이다.

(단위: %)

구분	(가) 지역	(나) 지역
A 수급자	11	12
B 수급자	8	13
A와 B 중복 수급자	4	6

- ① (가) 지역에서 강제 가입 원칙이 적용되는 제도의 수급자 수는 A와 B 중복 수급자 수의 2배보다 많다.
- ② (나) 지역에서 상호 부조의 원리가 적용되는 제도의 혜택만 받는 수급자 수는 A와 B 중복 수급자 수와 같다.
- ③ A와 B 중 하나 이상의 혜택을 받는 수급자 수는 (나) 지역이 (가) 지역의 2배보다 적다.
- ④ (나) 지역과 달리 (가) 지역은 보편적 복지 이념에 기초한 제도의 수급자 수가 선별적 복지 이념에 기초한 제도의 수급자 수보다 많다.
- ⑤ 갑국은 사후 처방적 성격이 강한 제도의 수급자 수가 사전 예방적 성격이 강한 제도의 수급자 수보다 많다.

16. (가), (나)에 대한 설명으로 가장 적절한 것은?

(가) 갑국의 ○○ 단체는 갑국으로 피난 온 난민의 인권 보장을 위해 난민법 개정 운동을 지속적으로 전개하고 있다.  
 (나) 을국에서는 △△ 단체를 중심으로 을국의 군사 독재 체제에 반대하며 민주화를 요구하는 시위가 지속되고 있다.

- ① (가)에는 과거의 질서로 돌아가려는 사회 운동이 나타난다.
- ② (나)에는 현재의 질서를 유지하려는 사회 운동이 나타난다.
- ③ (가)와 달리 (나)에는 사회적 소수자의 권리 보장을 위한 사회 운동이 나타난다.
- ④ (나)와 달리 (가)에는 사회 구조의 근본적 변혁을 목적으로 하는 사회 운동이 나타난다.
- ⑤ (가), (나)에는 모두 사회의 변화를 목적으로 하는 사회 운동이 나타난다.

17. 다음 두 사례에서 공통적으로 도출할 수 있는 내용으로 가장 적절한 것은?

○ 갑국에서는 과거에 지배층으로부터 배척당했던 갑국 내 A 집단의 정치사상이 시민 혁명 이후 갑국의 지배적인 통치 원리로 자리 잡았다.  
 ○ 을국에서는 미풍양속을 저해한다는 이유로 한때 단속 대상이었던 젊은 세대의 복장이 오늘날 모든 세대가 함께 즐겨 입는 옷차림이 되었다.

- ① 하위문화는 사회 변화에 따라 주류 문화가 되기도 한다.
- ② 주류 문화의 영향으로 인해 하위문화가 사라지기도 한다.
- ③ 물질문화의 변동은 새로운 하위문화가 나타나는 데 기여한다.
- ④ 사회적 분화 수준이 높아질수록 더 많은 하위문화가 나타난다.
- ⑤ 하위문화는 그 문화를 향유하는 구성원들의 정체성 형성에 기여한다.

18. 다음 자료에 대한 옳은 설명만을 <보기>에서 있는 대로 고른 것은?

교사: 사회에는 다양한 사회 불평등이 존재합니다. 이에 대한 해결 방안을 발표해 보세요.  
 갑: 인종이 다르다는 이유로 차별받는 사람들을 위해 인종 개선 캠페인이 진행되어야 합니다.  
 을: 최소한의 생활 수준 유지가 어려운 상태에 있는 사람을 돕기 위해 생계비 지원 정책을 마련해야 합니다.  
 병: 고위직 공무원 임명 시 특정 성별이 오랫동안 배제되어 왔습니다. 이러한 차별을 해소하기 위해 해당 성별을 일정 비율 이상 임명하도록 하는 법을 마련해야 합니다.

< 보 기 >  
 ㄱ. 갑은 귀속적 요인으로 인한 차별의 해결 방안을 발표하였다.  
 ㄴ. 을은 절대적 빈곤의 해결 방안을 발표하였다.  
 ㄷ. 병은 역차별의 해결 방안을 발표하였다.

- ① ㄱ      ② ㄷ      ③ ㄱ, ㄴ      ④ ㄴ, ㄷ      ⑤ ㄱ, ㄴ, ㄷ

19. 다음 자료에 대한 옳은 설명만을 <보기>에서 고른 것은? (단, A~C는 각각 문화 동화, 문화 병존, 문화 융합 중 하나임.) [3점]

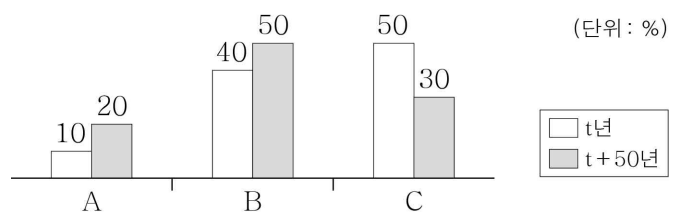
교사: 문화 접변의 결과 A~C의 사례를 발표해 보세요.  
 갑: A의 사례로 '외국으로부터 들어온 단발의 유행으로 ○○국에서 전통 헤어스타일이 사라진 경우'를 들 수 있습니다.  
 을: B의 사례로 '전쟁 시 나무로 만든 배를 운용하던 △△국에서 철갑을 두른 배가 개발되어 목선과 철갑선이 함께 운용된 경우'를 들 수 있습니다.  
 병: C의 사례로 '□□국 사람들이 전통 음식에 자국 식민지의 조리법을 결합하여 만든 새로운 음식을 즐겨 먹게 된 경우'를 들 수 있습니다.  
 교사: 세 명 중 ① 두 명만 옳게 발표했습니다.

< 보 기 >  
 ㄱ. ㉠은 갑, 을이다.  
 ㄴ. A와 달리 C는 자문화의 정체성이 상실되지 않는다.  
 ㄷ. A, B 모두 외부 사회 문화 요소의 수용이 나타난다.  
 ㄹ. 갑과 달리 병은 강제적 문화 접변의 사례를 발표하였다.

- ① ㄱ, ㄴ      ② ㄱ, ㄷ      ③ ㄴ, ㄷ      ④ ㄴ, ㄹ      ⑤ ㄷ, ㄹ

20. 다음 자료에 대한 분석으로 옳은 것은? [3점]

그림은 갑국의 시기별 인구 구성을 나타낸 것이다. A~C는 각각 전체 인구에서 유소년 인구(0~14세 인구), 부양 인구(15~64세 인구), 노년 인구(65세 이상 인구)가 차지하는 비율 중 하나이다. t년 대비 t+50년에 갑국의 전체 인구에서 부양 인구가 차지하는 비율은 높아졌고, 노년 부양비와 달리 유소년 부양비는 감소하였다. 단, 갑국의 전체 인구는 t+50년이 t년의 1.5배이다.



\* 유소년 부양비 = (유소년 인구 / 부양 인구) × 100  
 \* 노년 부양비 = (노년 인구 / 부양 인구) × 100  
 \* 총부양비 = 유소년 부양비 + 노년 부양비  
 \* 노령화 지수 = (노년 인구 / 유소년 인구) × 100

- ① t년의 노년 인구는 부양 인구의 4배이다.
- ② t년의 유소년 부양비는 t+50년의 총부양비보다 크다.
- ③ t+50년의 부양 인구는 t년의 유소년 인구와 동일하다.
- ④ t년에 비해 t+50년의 노령화 지수는 감소하였다.
- ⑤ t년에 비해 t+50년의 유소년 인구와 노년 인구는 모두 증가하였다.

\* 확인 사항  
 ○ 답안지의 해당란에 필요한 내용을 정확히 기입(표기)했는지 확인하십시오.